

I- ACTIVITE, EMPLOI ET CHOMAGE

1) Travail, ou emploi ?

Document 1

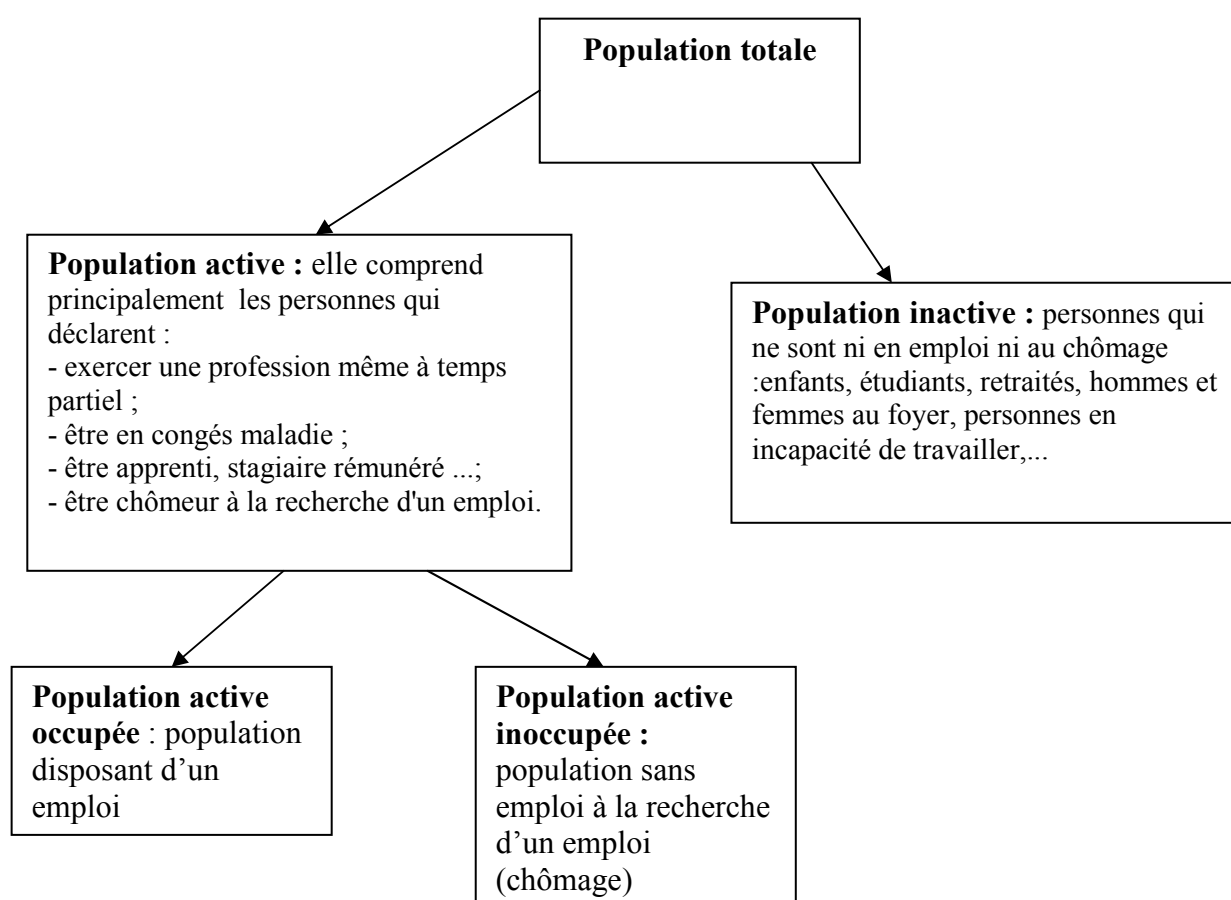
Voici un ensemble d'activités :

- Préparer les repas pour toute la famille
- Etre chauffeur de taxi salarié
- Etre bénévole dans une association humanitaire
- Travailler en tant que salarié dans une association humanitaire
- Etre chauffeur de taxi-artisan, c'est-à-dire sans patron
- Etre musicien professionnel
- Expliquer un cours à un camarade de classe
- Etre enseignant dans un lycée
- Etre cuisinier dans un restaurant
- Faire de la musique avec ses amis

1) Lesquelles de ces activités correspondent à un travail ? Pourquoi ?

2) Actif, ou inactif ?

Document 2



3) Déterminez si les personnes suivantes sont actives occupées, active inoccupées ou inactives, en les plaçant dans le tableau suivant :

	Actif occupée	Actif inoccupée	Inactif

- un agriculteur travaillant seul sur son exploitation
- un fonctionnaire
- un professeur de sciences économiques et sociales
- un chômeur recherchant un emploi
- une personne sans emploi n'en recherchant pas
- une femme au foyer s'occupant de ses enfants et de son intérieur
- un étudiant
- un stagiaire rémunéré par son entreprise
- un stagiaire non rémunéré

- 4) Recopier les formules suivantes et remplacer les pointillés par les termes suivants correspondants :
Population active occupée, population inactive, population totale, chômeurs
- population active totale – population active occupée =
 - population totale - population active =
 - population active + population inactive =
 - population active totale – chômeurs =

Document 3

Population active et population active occupée

	2007 (t)	2008 (t)	2009
Population active (en millions)	27,8	28,0	28,3
Population active occupée (en millions)	25,6	25,9	25,7
dont femmes (en %)	47,1	47,2	47,5
dont non salariés (en %)	11,0	10,6	11,0

Champ : données en moyenne annuelle ; France métropolitaine, population des ménages, personnes de 15 ans ou plus (âge au 31 décembre).
 Source : Insee, enquêtes Emploi.

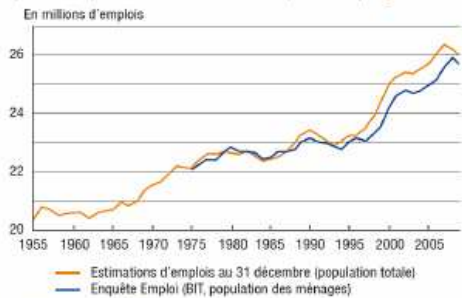
Source : TEF 2011, Insee

- 5) Que signifient : « 28.3 », et « 47.5 » en 2009 ?
- 6) Calculez la part de la population active occupée dans la population active totale en 2009

II- LES GRANDES EVOLUTIONS DE L'EMPLOI ET DU CHOMAGE

Document 4

Graphique 1 : Emploi total en France métropolitaine (moyenne annuelle)



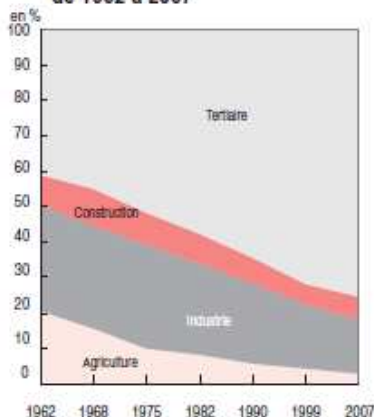
Champ : France métropolitaine.
 Source : INSEE, estimations d'emploi au 31 décembre (sources administratives) et enquête Emploi en moyenne annuelle, corrigée de la rupture de série en 2003.

Source : *Le travail et l'emploi dans 20 ans*, Rapport et documents, Centre d'analyse stratégique, Juillet 2011

- 7) Combien y a-t-il approximativement d'emplois en France en 2009 ?
- 8) Calculez l'évolution du nombre d'emplois en France entre 1995 et 2008
- 9) Depuis 1955, y a-t-il eu des périodes en France où le nombre d'emplois a diminué ?

Document 5

⑤ Répartition de l'emploi par secteur d'activité de 1962 à 2007

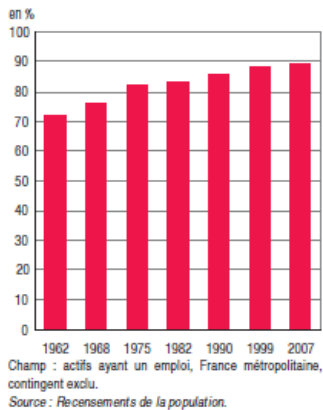


Lecture : le poids de l'industrie dans l'emploi avoisinait 30 % en 1962 ; il n'est plus que de 15 % en 2007.
 Champ : actifs ayant un emploi, France métropolitaine, contingent exclu.
 Source : Recensements de la population.

- 10) Pourquoi peut-on parler de « tertiarisation » de l'emploi ?
- 11) Selon vous, comment peut-on expliquer cette évolution

Document 6

⑥ Taux de salarisation de l'emploi de 1962 à 2007



- 12) Qu'est-ce qu'un salarié ? Un indépendant ?
13) Peut-on parler de salarisation de l'emploi ?

Document 7

« L'évolution du taux de chômage ou d'emploi résulte toujours de la différence entre des flux d'entrées et des flux de sorties. C'est comme dans une baignoire où il y a de l'eau qui rentre et de l'eau qui sort : le niveau de l'eau correspond à la différence entre l'arrivée et la sortie.

En ce qui concerne l'emploi, l'économie française est très dynamique puisqu'elle crée énormément d'emploi même si elle en détruit aussi beaucoup.

Il y a donc toujours des créations d'emplois, même si elles sont ralenties en période de [crise](#), et toujours des destructions d'emplois.

Le marché du travail n'est pas quelque chose de statique mais au contraire de très dynamique, il y a un turnover constant. Environ 10 000 emplois sont créés et détruits chaque jour en France, et compte tenu des rotations entre postes ou entre activité et inactivité, 30 000 personnes quittent un emploi ou en reprennent un chaque jour, ce qui fait un turnover de presque 1 million par mois en incluant les CDD, fin d'intérim etc.

Donc même si l'emploi diminue globalement, il est possible de rentrer sur le marché du travail simplement par le jeu des départs en retraite, des rotations, des gens qui quittent un emploi pour en prendre un autre, des CDD transformés en CDI, etc »

Interview d'Etienne Wasmer sur le site Kezeco, <http://www.kezeco.economie.gouv.fr/Etienne-Wasmer-economiste-du>

- 14) Comment se fait-il que le nombre total d'emplois puisse rester constant ou augmenter alors même que chaque jour plus de 10 000 emplois sont détruits dans l'économie française ?

Document 8

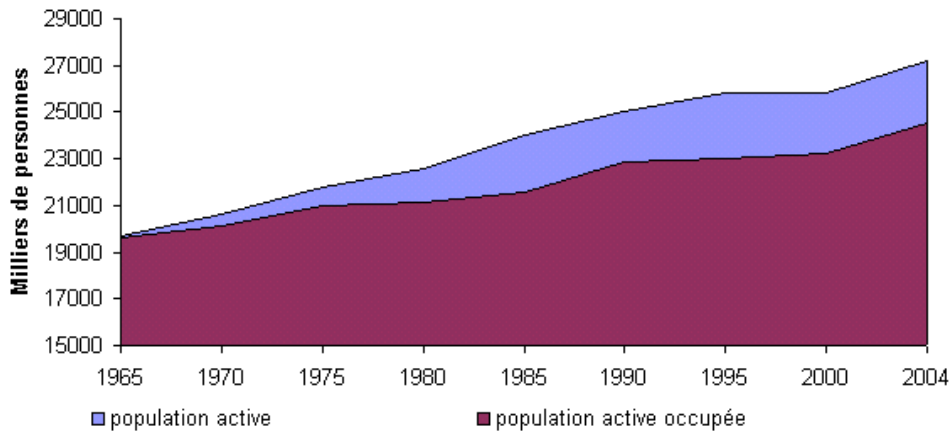


Document 9



- 15) Les différents pays présentés dans ce graphique connaissent-ils globalement depuis 1990 des taux de chômage égaux ?

Document 10 : Variation de la population active, de l'emploi et du chômage



Données: Insee

- 16) Que mesure la différence entre la population active et la population active occupée ?
- 17) Combien y avait-il approximativement d'actifs en 1965 ? Combien y avait-il approximativement de chômeurs en 1965 ?
- 18) A partir de ce graphique, peut-on dire que le nombre de chômeurs a augmenté en France entre 1965 et 2005 ? Pourquoi ?
- 19) Le nombre d'emplois en France a-t-il diminué entre 1965 et 2005 ?